



# केन्द्रीय रिजर्व पुलिस बल CENTRAL RESERVE POLICE FORCE

Test Date	26/02/2023
Test Time	04:00 PM - 05:30 PM
Subject	Head Constable Ministerial

## Section : Hindi Language

Q.1 उचित शब्द चुनकर वाक्य में रिक्त स्थान की पूर्ति करें।  
'इस \_\_\_\_ संसार में कुछ भी निश्चित नहीं है।'

- Ans
- A. विरक्त
  - B. अनश्वर
  - C. चंचल
  - D. नश्वर



# INDIA

Question ID : 630680178218

Status : Answered

Chosen Option : D

Q.2 'संयुक्त क्रिया' युक्त वाक्यांश चुनकर निम्न वाक्य पूर्ण करें।  
'शिक्षक ने छात्रों को \_\_\_\_।'

- Ans
- A. हिन्दी में कविता सुनायी
  - B. हिन्दी की पुस्तक दी
  - C. हिन्दी में कहानी लिखवायी
  - D. हिन्दी सिखा डाली

Question ID : 630680178224

Status : Answered

Chosen Option : A

Q.3 निम्नलिखित वाक्य के किस शब्द की वर्तनी में सन्धि-सम्बन्धी अशुद्धि है?  
'इस गाँव के आखिरी छोर पर अत्यंत विशाल सरवर है।'

- Ans  A. इस गाँव के  
 B. सरवर है  
 C. अत्यंत विशाल  
 D. आखिरी छोर पर

Question ID : 630680178211

Status : Answered

Chosen Option : B

Q.4 निम्नलिखित में से शुद्ध पदक्रम वाले वाक्य का चयन करें-

- Ans  A. झुग्गी-बस्तियों में युवा-वर्ग के पथभ्रमित होने की समुचित शिक्षा-सुविधाओं के न मिलने तथा मनोरंजन और कल्याणकारी कार्यकलापों के न होने से सम्भावना बनी रहती है।  
 B. झुग्गी-बस्तियों में तथा मनोरंजन और कल्याणकारी कार्यकलापों के न होने से समुचित शिक्षा-सुविधाओं के न मिलने युवा-वर्ग के पथभ्रमित होने की सम्भावना बनी रहती है।  
 C. झुग्गी-बस्तियों में युवा-वर्ग के पथभ्रमित होने की सम्भावना बनी रहती है समुचित शिक्षा-सुविधाओं के न मिलने तथा मनोरंजन और कल्याणकारी कार्यकलापों के न होने से।  
 D. झुग्गी-बस्तियों में समुचित शिक्षा-सुविधाओं के न मिलने तथा मनोरंजन और कल्याणकारी कार्यकलापों के न होने से युवा-वर्ग के पथभ्रमित होने की सम्भावना बनी रहती है।

Question ID : 630680178217

Status : Answered

Chosen Option : D

Q.5 निम्न वाक्यांश को एक उपयुक्त शब्द से प्रतिस्थापित करें।  
'तैरकर पार होने की इच्छा रखने वाला'

- Ans  A. त्रिकुट  
 B. तितीर्षु  
 C. तटवर्ती  
 D. तिर्तिशु

INDIA

Question ID : 630680178221

Status : Answered

Chosen Option : B

Q.6 'निरोगी काया, मनुष्य के लिए ईश्वर का अप्रतिम वरदान है।'  
इस वाक्य के किस भाग में वर्तनी सम्बन्धी अशुद्धि है। उचित विकल्प का चयन करें-

- Ans  A. अप्रतिम वरदान है  
 B. निरोगी काया  
 C. ईश्वर का  
 D. मनुष्य के लिए

Question ID : 630680178210

Status : Answered

Chosen Option : A

Q.7 'ये \_\_\_\_\_ बातें हैं, नेता लोग ही समझेंगे।' शुद्ध वर्तनी वाले शब्द से वाक्य में रिक्त स्थान की पूर्ति करें-

- Ans  A. राजनीतिक  
 B. राजनयिक  
 C. राजनीतिक  
 D. राजनैतिक

Question ID : 630680178209

Status : Answered

Chosen Option : D

Q.8 निम्नलिखित खण्डों के उचित क्रम का चयन कर सही लोकोक्ति की पहचान करें।

और मंतर  
में हाथ  
तू डाल  
बांबी  
में पढ़ूँ

- Ans  A. हाथ तू डाल और मंतर बांबी में मैं पढ़ूँ  
 B. और मंतर मैं पढ़ूँ तू डाल हाथ बांबी में  
 C. मैं पढ़ूँ और मंतर बांबी में हाथ तू डाल  
 D. बांबी में हाथ तू डाल और मंतर मैं पढ़ूँ

Question ID : 630680178215

Status : Answered

Chosen Option : D

Q.9 'पहाड़ों में बर्फ \_\_\_\_\_।' - 'अपूर्ण भूत काल की क्रिया का चयन करके रिक्त स्थान की पूर्ति करें।

- Ans  A. गिर रही थी  
 B. गिर चुकी थी  
 C. गिर चुकी है  
 D. गिरती थी

Question ID : 630680178222

Status : Answered

Chosen Option : C

Q.10 'चिड़िया को जुकाम होना' - सही शब्द चुनकर मुहावरे के रेखांकित शब्द को प्रतिस्थापित करें-

- Ans  A. मगर  
 B. मछली  
 C. मेंढकी  
 D. बतख

Question ID : 630680178213

Status : Answered

Chosen Option : C

Q.11 निम्नलिखित शब्दों में से 'कोविद' शब्द के विलोमार्थी का चयन करें-

- Ans  A. शान्ति  
 B. चतुर  
 C. निष्क्रिय  
 D. मंदबुद्धि

Question ID : 630680178207  
Status : Answered  
Chosen Option : B

Q.12 निम्नलिखित में से कौन सा शब्द 'चारु' का पर्यायवाची नहीं है?

- Ans  A. ललाम  
 B. रुचिर  
 C. आचरण  
 D. रम्य

Question ID : 630680178206  
Status : Answered  
Chosen Option : C

Q.13 'आँख की चिरमिरी होना!' - इस मुहावरे का रेखांकित अंश अशुद्ध है। मुहावरे के शुद्ध भाग का चयन करें-

- Ans  A. फिटकिरी होना  
 B. काजल होना  
 C. किरकिरी होना  
 D. रौशनी होना

Question ID : 630680178212  
Status : Answered  
Chosen Option : C

Q.14 'जिसके पास कुछ भी न हो' उसके लिए एक उपयुक्त शब्द है।

- Ans  A. अनेर  
 B. अच्युत  
 C. अकिंचन  
 D. दीनहीन

Question ID : 630680178220  
Status : Answered  
Chosen Option : B

Q.15 निम्नलिखित में से 'तुषार' के पर्यायवाची शब्द का चयन कीजिए-

- Ans  A. तरकश  
 B. तुहिन  
 C. तुरही  
 D. तोष

Question ID : 630680178205  
Status : Answered  
Chosen Option : B

Q.16 'सूत न कपास, कुत्तों में लड्डम-लड्डा' - लोकोक्ति में रेखांकित शब्द अशुद्ध है। उचित शब्द चुनकर लोकोक्ति को शुद्ध रूप दें-

- Ans  A. किसानों  
 B. जुलाहों  
 C. बन्दरों  
 D. बिल्लियों

Question ID : 630680178214  
Status : Answered  
Chosen Option : B

Q.17 उचित शब्द चुनकर वाक्य में रिक्त स्थान की पूर्ति करें।  
'व्यक्ति और संसार, दोनों का व्यक्तित्व एक दूसरे पर \_\_\_\_\_ करता है।

- Ans  A. निश्चित  
 B. निर्भर  
 C. निर्णय  
 D. निर्गत

Question ID : 630680178219  
Status : Answered  
Chosen Option : B

Q.18 'आगामी' शब्द कालबोधक है जिसका आशय है 'आगे आने वाला', किन्तु 'भावी' का आशय?

- Ans  A. भविष्य के जुड़ा हुआ  
 B. दूर का भविष्य  
 C. भविष्य का अनुमान  
 D. भविष्य में होने वाला

INDIA

Question ID : 630680178208  
Status : Answered  
Chosen Option : D

Q.19 निम्नलिखित में से शुद्ध पदक्रम वाले वाक्य का चयन करें-

- Ans  A. जीवन में सफलता और विफलता मन की शक्ति के कारण होती है।  
 B. मनुष्य एकाकी जीवन सामाजिक प्राणी होने के नाते नहीं जी सकता।  
 C. लड़की नए घर अपने जाती है विवाह के बाद।  
 D. नकल करते हुए विद्यार्थी चार पकड़े गये आज विद्यालय में।

Question ID : 630680178216  
Status : Answered  
Chosen Option : A

Q.20 हेतुहेतुमद भविष्य काल की क्रिया चुनकर निम्न वाक्य पूर्ण करें।  
'अगर हम एक दूसरे को समझ \_\_\_\_\_।'

- Ans  A. लें तो जीवन आनंददायी हो जाए।  
 B. लेते तो जीवन आनंददायी हो जाता।  
 C. गए तो जीवन भी आनंददायी हो गया।  
 D. रहे हैं तो जीवन आनंददायी भी हो रहा है।

Question ID : 630680178223

Status : Answered

Chosen Option : A

### Comprehension:

निम्नलिखित गद्यांश पर आधारित दिए गए प्रश्नों के उत्तर दीजिए।

'गाँधीजी चलती-फिरती कक्षा भी लगाया करते थे। अपने छोटे-छोटे लड़कों को घर पर पढ़ाने के लिए गाँधी समय नहीं निकाल पाते थे, इसलिए दफ्तर जाते समय बच्चे अपने बापू के साथ हो लेते थे। वह प्रतिदिन पाँच मील पैदल चलते-चलते कहानी के रूप में गुजराती साहित्य, कविता और अन्य विषयों का ज्ञान प्राप्त किया करते थे। बच्चों को स्कूल भेजने के सवाल पर झंझट उठ खड़ा हुआ था। अंग्रेजों के स्कूल में भारतीय बच्चों को दाखिला नहीं मिलता था। गाँधी को विशेष लूट मिल सकती थी किंतु जो उनके सब भारतीय भाइयों को ना मिले उन्होंने ऐसी सुविधा नहीं ली। गाँधी अपने बच्चों को अंग्रेजी स्कूलों में भेजकर मातृभाषा के बजाय अंग्रेजी और अंग्रेजियत नहीं सिखाना चाहते थे। कुछ दिनों के लिए एक अंग्रेज महिला ने उनके बच्चों को अंग्रेजी पढ़ायी और बाकी विषय उन्होंने खुद पढ़ाये। अपने घर में रहने वाले अंग्रेज मित्रों तथा आने-जाने वालों के संपर्क में उनके बच्चों ने अंग्रेजी बोलने का अच्छा अभ्यास कर लिया था। फिनिक्स में गाँधी जी ने आश्रम वासियों के बच्चों के लिए एक पाठशाला खोली। गाँधी स्वयं उसके प्रधान शिक्षक थे और अन्य साथी सहशिक्षक। गाँधी जो काम स्वयं नहीं कर पाते थे उसे दूसरों को करने का उपदेश नहीं देते थे। उनकी मान्यता थी कि जो शिक्षक स्वयं भीरु और अनियमित होगा वह विद्यार्थियों को साहस और नियम-पालन नहीं सिखा पाएगा। शिक्षक को अपने विद्यार्थियों के समक्ष आदर्श रूप होना चाहिए। उन्हें जब भी समय मिलता, वे बहुत कुछ पढ़ डालते और कोई नई बात सीख लेते थे। पैंसठ साल की आयु में जेल में रहते हुए उन्होंने पहली बार आकाश में ग्रह नक्षत्रों को पहचानना सीखा था।'

### SubQuestion No : 21

Q.21 दिए गए गद्यांश किस प्रकार वास्तविक जीवन से सम्बन्धित है?

- Ans  A. अंग्रेजी भाषा और अंग्रेजियत का आना जीवन के लिए बहुत आवश्यक है  
 B. विदेशी भाषा को घर पर रहकर ही सीखना चाहिए, घर पर ही सब कार्यों को करना चाहिए  
 C. अपने कार्यों में सक्षम होना, सामाजिक समभाव और उच्च आदर्शों का पालन करने वाले शिक्षक, ये सभी जीवन के वास्तविक आधार हैं  
 D. वास्तविक जीवन में शिक्षक का अपने विद्यार्थियों के सामने आदर्शवादी बनना बिलकुल आवश्यक नहीं है

Question ID : 630680178230

Status : Answered

Chosen Option : C

**Comprehension:**

निम्नलिखित गद्यांश पर आधारित दिए गए प्रश्नों के उत्तर दीजिए।

‘गाँधीजी चलती-फिरती कक्षा भी लगाया करते थे। अपने छोटे-छोटे लड़कों को घर पर पढ़ाने के लिए गाँधी समय नहीं निकाल पाते थे, इसलिए दफ्तर जाते समय बच्चे अपने बापू के साथ हो लेते थे। वह प्रतिदिन पाँच मील पैदल चलते-चलते कहानी के रूप में गुजराती साहित्य, कविता और अन्य विषयों का ज्ञान प्राप्त किया करते थे। बच्चों को स्कूल भेजने के सवाल पर झंझट उठ खड़ा हुआ था। अंग्रेजों के स्कूल में भारतीय बच्चों को दाखिला नहीं मिलता था। गाँधी को विशेष छूट मिल सकती थी किंतु जो उनके सब भारतीय भाइयों को ना मिले उन्होंने ऐसी सुविधा नहीं ली। गाँधी अपने बच्चों को अंग्रेजी स्कूलों में भेजकर मातृभाषा के बजाय अंग्रेजी और अंग्रेजियत नहीं सिखाना चाहते थे। कुछ दिनों के लिए एक अंग्रेज महिला ने उनके बच्चों को अंग्रेजी पढ़ायी और बाकी विषय उन्होंने खुद पढ़ाये। अपने घर में रहने वाले अंग्रेज मित्रों तथा आने-जाने वालों के संपर्क में उनके बच्चों ने अंग्रेजी बोलने का अच्छा अभ्यास कर लिया था। फिनिक्स में गाँधी जी ने आश्रम वासियों के बच्चों के लिए एक पाठशाला खोली। गाँधी स्वयं उसके प्रधान शिक्षक थे और अन्य साथी सहशिक्षक। गाँधी जो काम स्वयं नहीं कर पाते थे उसे दूसरों को करने का उपदेश नहीं देते थे। उनकी मान्यता थी कि जो शिक्षक स्वयं भीरु और अनियमित होगा वह विद्यार्थियों को साहस और नियम-पालन नहीं सिखा पाएगा। शिक्षक को अपने विद्यार्थियों के समक्ष आदर्श रूप होना चाहिए। उन्हें जब भी समय मिलता, वे बहुत कुछ पढ़ डालते और कोई नई बात सीख लेते थे। पैंसठ साल की आयु में जेल में रहते हुए उन्होंने पहली बार आकाश में ग्रह नक्षत्रों को पहचानना सीखा था।’

**SubQuestion No : 22**

Q.22 गद्यांश में प्रयुक्त शब्द ‘समक्ष’ के विलोमार्थी-युग्म शब्द का चयन कीजिए।

- Ans
- A. प्रत्यक्ष
  - B. तत्र
  - C. परोक्ष
  - D. अन्यत्र

Question ID : 630680178227

Status : Answered

Chosen Option : C

**Comprehension:**

निम्नलिखित गद्यांश पर आधारित दिए गए प्रश्नों के उत्तर दीजिए।

‘गाँधीजी चलती-फिरती कक्षा भी लगाया करते थे। अपने छोटे-छोटे लड़कों को घर पर पढ़ाने के लिए गाँधी समय नहीं निकाल पाते थे, इसलिए दफ्तर जाते समय बच्चे अपने बापू के साथ हो लेते थे। वह प्रतिदिन पाँच मील पैदल चलते-चलते कहानी के रूप में गुजराती साहित्य, कविता और अन्य विषयों का ज्ञान प्राप्त किया करते थे। बच्चों को स्कूल भेजने के सवाल पर झंझट उठ खड़ा हुआ था। अंग्रेजों के स्कूल में भारतीय बच्चों को दाखिला नहीं मिलता था। गाँधी को विशेष छूट मिल सकती थी किंतु जो उनके सब भारतीय भाइयों को ना मिले उन्होंने ऐसी सुविधा नहीं ली। गाँधी अपने बच्चों को अंग्रेजी स्कूलों में भेजकर मातृभाषा के बजाय अंग्रेजी और अंग्रेजियत नहीं सिखाना चाहते थे। कुछ दिनों के लिए एक अंग्रेज महिला ने उनके बच्चों को अंग्रेजी पढ़ायी और बाकी विषय उन्होंने खुद पढ़ाये। अपने घर में रहने वाले अंग्रेज मित्रों तथा आने-जाने वालों के संपर्क में उनके बच्चों ने अंग्रेजी बोलने का अच्छा अभ्यास कर लिया था। फिनिक्स में गाँधी जी ने आश्रम वासियों के बच्चों के लिए एक पाठशाला खोली। गाँधी स्वयं उसके प्रधान शिक्षक थे और अन्य साथी सहशिक्षक। गाँधी जो काम स्वयं नहीं कर पाते थे उसे दूसरों को करने का उपदेश नहीं देते थे। उनकी मान्यता थी कि जो शिक्षक स्वयं भीरु और अनियमित होगा वह विद्यार्थियों को साहस और नियम-पालन नहीं सिखा पाएगा। शिक्षक को अपने विद्यार्थियों के समक्ष आदर्श रूप होना चाहिए। उन्हें जब भी समय मिलता, वे बहुत कुछ पढ़ डालते और कोई नई बात सीख लेते थे। पैंसठ साल की आयु में जेल में रहते हुए उन्होंने पहली बार आकाश में ग्रह नक्षत्रों को पहचानना सीखा था।’

**SubQuestion No : 23**

Q.23 गद्यांश में कौन-कौन से मुख्य तथ्य निहित हैं?

- Ans
- A. चलती-फिरती पाठशाला चलाना चाहिए
  - B. पाठशाला खोलनी चाहिए जिसमें विद्यार्थी नियम से पढ़ सकें
  - C. व्यक्ति को समय का सदुपयोग करना, जीवन-आदर्शों का पालन करना और अपने कार्यों में पहले स्वयं सक्षम होना चाहिए
  - D. बच्चों को अंग्रेजी की शिक्षा घर में ही देनी चाहिए

Question ID : 630680178229

Status : Answered

Chosen Option : A

**Comprehension:**

निम्नलिखित गद्यांश पर आधारित दिए गए प्रश्नों के उत्तर दीजिए।

‘गाँधीजी चलती-फिरती कक्षा भी लगाया करते थे। अपने छोटे-छोटे लड़कों को घर पर पढ़ाने के लिए गाँधी समय नहीं निकाल पाते थे, इसलिए दफ्तर जाते समय बच्चे अपने बापू के साथ हो लेते थे। वह प्रतिदिन पाँच मील पैदल चलते-चलते कहानी के रूप में गुजराती साहित्य, कविता और अन्य विषयों का ज्ञान प्राप्त किया करते थे। बच्चों को स्कूल भेजने के सवाल पर झंझट उठ खड़ा हुआ था। अंग्रेजों के स्कूल में भारतीय बच्चों को दाखिला नहीं मिलता था। गाँधी को विशेष छूट मिल सकती थी किंतु जो उनके सब भारतीय भाइयों को ना मिले उन्होंने ऐसी सुविधा नहीं ली। गाँधी अपने बच्चों को अंग्रेजी स्कूलों में भेजकर मातृभाषा के बजाय अंग्रेजी और अंग्रेजियत नहीं सिखाना चाहते थे। कुछ दिनों के लिए एक अंग्रेज महिला ने उनके बच्चों को अंग्रेजी पढ़ायी और बाकी विषय उन्होंने खुद पढ़ाये। अपने घर में रहने वाले अंग्रेज मित्रों तथा आने-जाने वालों के संपर्क में उनके बच्चों ने अंग्रेजी बोलने का अच्छा अभ्यास कर लिया था। फिनिक्स में गाँधी जी ने आश्रम वासियों के बच्चों के लिए एक पाठशाला खोली। गाँधी स्वयं उसके प्रधान शिक्षक थे और अन्य साथी सहशिक्षक। गाँधी जो काम स्वयं नहीं कर पाते थे उसे दूसरों को करने का उपदेश नहीं देते थे। उनकी मान्यता थी कि जो शिक्षक स्वयं भीरु और अनियमित होगा वह विद्यार्थियों को साहस और नियम-पालन नहीं सिखा पाएगा। शिक्षक को अपने विद्यार्थियों के समक्ष आदर्श रूप होना चाहिए। उन्हें जब भी समय मिलता, वे बहुत कुछ पढ़ डालते और कोई नई बात सीख लेते थे। पैंसठ साल की आयु में जेल में रहते हुए उन्होंने पहली बार आकाश में ग्रह नक्षत्रों को पहचानना सीखा था।’

**SubQuestion No : 24**

Q.24 दिए गए गद्यांश किस विषय पर केन्द्रित है?

- Ans  A. गाँधी जी की चलती-फिरती पाठशाला  
 B. गाँधी जी का आदर्शों पर आधारित शिक्षा में विश्वास  
 C. गाँधी जी का मातृभाषा की शिक्षा में विश्वास  
 D. गाँधी जी का अंग्रेजी शिक्षा-ग्रहण में विश्वास

Question ID : 630680178228

Status : Answered

Chosen Option : D

**Comprehension:**

निम्नलिखित गद्यांश पर आधारित दिए गए प्रश्नों के उत्तर दीजिए।

‘गाँधीजी चलती-फिरती कक्षा भी लगाया करते थे। अपने छोटे-छोटे लड़कों को घर पर पढ़ाने के लिए गाँधी समय नहीं निकाल पाते थे, इसलिए दफ्तर जाते समय बच्चे अपने बापू के साथ हो लेते थे। वह प्रतिदिन पाँच मील पैदल चलते-चलते कहानी के रूप में गुजराती साहित्य, कविता और अन्य विषयों का ज्ञान प्राप्त किया करते थे। बच्चों को स्कूल भेजने के सवाल पर झंझट उठ खड़ा हुआ था। अंग्रेजों के स्कूल में भारतीय बच्चों को दाखिला नहीं मिलता था। गाँधी को विशेष छूट मिल सकती थी किंतु जो उनके सब भारतीय भाइयों को ना मिले उन्होंने ऐसी सुविधा नहीं ली। गाँधी अपने बच्चों को अंग्रेजी स्कूलों में भेजकर मातृभाषा के बजाय अंग्रेजी और अंग्रेजियत नहीं सिखाना चाहते थे। कुछ दिनों के लिए एक अंग्रेज महिला ने उनके बच्चों को अंग्रेजी पढ़ायी और बाकी विषय उन्होंने खुद पढ़ाये। अपने घर में रहने वाले अंग्रेज मित्रों तथा आने-जाने वालों के संपर्क में उनके बच्चों ने अंग्रेजी बोलने का अच्छा अभ्यास कर लिया था। फिनिक्स में गाँधी जी ने आश्रम वासियों के बच्चों के लिए एक पाठशाला खोली। गाँधी स्वयं उसके प्रधान शिक्षक थे और अन्य साथी सहशिक्षक। गाँधी जो काम स्वयं नहीं कर पाते थे उसे दूसरों को करने का उपदेश नहीं देते थे। उनकी मान्यता थी कि जो शिक्षक स्वयं भीरु और अनियमित होगा वह विद्यार्थियों को साहस और नियम-पालन नहीं सिखा पाएगा। शिक्षक को अपने विद्यार्थियों के समक्ष आदर्श रूप होना चाहिए। उन्हें जब भी समय मिलता, वे बहुत कुछ पढ़ डालते और कोई नई बात सीख लेते थे। पैंसठ साल की आयु में जेल में रहते हुए उन्होंने पहली बार आकाश में ग्रह नक्षत्रों को पहचानना सीखा था।’

**SubQuestion No : 25**

Q.25 गद्यांश में प्रयुक्त शब्द ‘भीरु’ के पर्यायवाची का चयन कीजिए।

- Ans  A. कामचोर  
 B. कायर  
 C. उग्र  
 D. आलसी

Question ID : 630680178226

Status : Answered

Chosen Option : C



Q.1 Select the most appropriate option to fill in the blanks.  
Gangkhar Puensum mountain stands tall at a height of 24,836 ft above sea level, on the \_\_\_\_ of Bhutan and China; till date, there's no record of \_\_\_\_ summit by anyone. Now, think if mountaineers climbed their way up Mount Everest, which is at 29,029 ft above sea level, why has Gangkhar Puensum \_\_\_\_\_ unconquered?

- Ans
- A. limit; them; continued
  - B. edge; it's; left
  - C. margin; their; stood
  - D. border; its; stayed

Question ID : 630680178241  
Status : Not Answered  
Chosen Option : --

Q.2 Select the most appropriate option to fill in the blanks.  
A little dark-brown dog came \_\_\_\_ with an intent air down the sidewalk. A short rope was dragging \_\_\_\_ his neck. Occasionally he trod upon the end of it and stumbled. He stopped opposite the child, and the two \_\_\_\_ each other.

- Ans
- A. trot; with; remarked
  - B. trotted; for; barked
  - C. trots; to; concerned
  - D. trotting; from; regarded

Question ID : 630680178242  
Status : Not Answered  
Chosen Option : --

Q.3 Parts of a sentence are given below in jumbled order. Arrange the parts in the correct order to form a meaningful sentence.  
A. of the newly launched Mahindra Scorpio Classic SUV  
B. for 12 units of the armed forces  
C. the Indian Army has placed  
D. an order to acquire 1,470 units

- Ans
- A. DCBA
  - B. CBDA
  - C. CDAB
  - D. ADBC

Question ID : 630680178237  
Status : Not Answered  
Chosen Option : --

Q.4 The following sentence has been divided into parts. One of them may contain an error. Select the part that contains the error from the given options. If you don't find any error, mark 'No error' as your answer.  
If the budget prioritises giveaways / for big business, expenditure on education, health, / and other welfare services will be suffered.

- Ans
- A. No error
  - B. If the budget prioritises giveaways
  - C. for big business, expenditure on education, health
  - D. and other welfare services will be suffered

Question ID : 630680178249  
Status : Not Answered  
Chosen Option : --

Q.5 Select the most appropriate option to substitute the underlined word in the given idiom. If there is no need to substitute it, select 'No substitution required'.  
Sit on the wall

- Ans
- A. No substitution required
  - B. in the window
  - C. on the tree
  - D. on the fence

Question ID : 630680178236  
Status : Not Answered  
Chosen Option : --

Q.6 Select the most appropriate synonym of the given word.  
Eradicate

- Ans
- A. Eliminate
  - B. Establish
  - C. Protect
  - D. Create

Question ID : 630680178233  
Status : Not Answered  
Chosen Option : --

Q.7 Select the most appropriate option to substitute the underlined word in the given proverb. If there is no need to substitute it, select 'No substitution required'.  
An idle mind is an empty well.

- Ans
- A. No substitution required
  - B. a witch house
  - C. the devil's workshop
  - D. full of mischief

INDIA

Question ID : 630680178235  
Status : Not Answered  
Chosen Option : --

Q.8 Select the most appropriate option to fill in the blanks.  
The President of the Republic of Guyana asked the Indian Agriculture minister to \_\_\_\_ a team of experts to set up a millet farm in Guyana and promised \_\_\_\_ help in the production and promotion of millet in the Caribbean and Latin American countries.

- Ans
- A. deliver; total
  - B. grant; utter
  - C. forward; whole
  - D. send; all

Question ID : 630680178240  
Status : Not Answered  
Chosen Option : --

**Q.9** Select the option that can be used as a one-word substitute for the given group of words.  
A doctor who specialises in kidney diseases

- Ans  A. Haematologist  
 B. Ophthalmologist  
 C. Nephrologist  
 D. Gynaecologist

Question ID : 630680178243  
Status : Not Answered  
Chosen Option : --

**Q.10** Select the most appropriate option to fill in the blank.  
The railways are valuable for the growth of \_\_\_\_\_ local economy of the Darjeeling hills.

- Ans  A. an  
 B. No word required  
 C. the  
 D. a

Question ID : 630680178247  
Status : Not Answered  
Chosen Option : --

**Q.11** Select the option that can be used as a one-word substitute for the given group of words.  
To further increase or improve the quality of something

- Ans  A. Engender  
 B. Enhance  
 C. Endow  
 D. Enlarge

INDIA

Question ID : 630680178245  
Status : Not Answered  
Chosen Option : --

**Q.12** The following sentence has been divided into parts. One of them may contain an error.  
Select the part that contains the error from the given options. If you don't find any error,  
mark 'No error' as your answer.  
No sooner did I received the call / from my brother than I left / for Meerut with my son.

- Ans  A. from my brother than I left  
 B. No sooner did I received the call  
 C. No error  
 D. for Meerut with my son

Question ID : 630680178248  
Status : Not Answered  
Chosen Option : --

Q.13 The following sentence has been divided into parts. One of them may contain a spelling error. Select the part that contains the error from the given options. If you don't find any error, mark 'No error' as your answer.  
Some of the projects caused/ irreparable damage to waterways / and the livelihoods of fishermen.

- Ans
- A. Some of the projects caused
  - B. No error
  - C. and the livelihoods of fishermen
  - D. irreparable damage to waterways

Question ID : 630680178250  
Status : Not Answered  
Chosen Option : --

Q.14 Select the option that can be used as a one-word substitute for the given group of words.  
Calm, quiet and free of disturbance

- Ans
- A. Tranquil
  - B. Thermal
  - C. Turbid
  - D. Temperate

Question ID : 630680178244  
Status : Not Answered  
Chosen Option : --

Q.15 Select the most appropriate option to substitute the underlined word in the given proverb. If there is no need to substitute it, select 'No substitution required'.  
Still waters run slowly.

- Ans
- A. No substitution required
  - B. shallow
  - C. deep
  - D. nowhere

Question ID : 630680178234  
Status : Not Answered  
Chosen Option : --

Q.16 Select the most appropriate option to fill in the blanks.  
We will \_\_\_ payment by all different means \_\_\_ bank draft.

- Ans
- A. accept; except
  - B. except; except
  - C. accept; accept
  - D. except; accept

Question ID : 630680178232  
Status : Not Answered  
Chosen Option : --

Q.17 Select the grammatically CORRECT sentence.

- Ans  A. Steve hurried over to the screen, eyes to focus on the target.  
 B. Steve hurried over to the screen, eyes focused on the target.  
 C. Steve hurried over to the screen, eyes be focusing on the target.  
 D. Steve hurried over to the screen, eyes focus on the target.

Question ID : 630680178246  
Status : Not Answered  
Chosen Option : --

Q.18 Select the most appropriate ANTONYM of the given word.  
Fertile

- Ans  A. Barren  
 B. Virile  
 C. Prolific  
 D. Bountiful

Question ID : 630680178231  
Status : Not Answered  
Chosen Option : --

Q.19 Sentences of a paragraph are given below in jumbled order. Arrange the sentences in the correct order to form a meaningful and coherent paragraph.

- A. They heat sand to a high temperature in an iron pan and then pour barleycorns onto it.  
B. The staple food in the central region of Tibet is tsampa.  
C. This is how they prepare it.  
D. They burst with a slight pop, whereupon you put the corns and the sand in a fine meshed sieve through which the sand runs.

- Ans  A. BCAD  
 B. ABDC  
 C. DCBA  
 D. BDCA

Question ID : 630680178238  
Status : Not Answered  
Chosen Option : --

Q.20 Select the most appropriate option to fill in the blanks.

The policeman looked in the \_\_\_\_ of the sound and saw a dog, hopping on three legs and looking about her, \_\_\_\_ of a timber-yard. A man in a starched cotton shirt was chasing her.

- Ans  A. way; down  
 B. path; inside  
 C. direction; out  
 D. course; up

Question ID : 630680178239  
Status : Not Answered  
Chosen Option : --

### Comprehension:

Read the given passage and answer the questions that follow.

Sherpas are extraordinary human beings. In the high peaks of the Himalayas, members of the Nepalese ethnic group are famous for their speed-climbing records, ascents of routes that no one has ascended before, expert guiding and other skills.

They may be better at harnessing oxygen than the rest of us, suggests a new study. The Sherpas and other ethnic groups have lived on the high plateau of the Himalayas at an average altitude of more than 14,700 feet going back at least 6,000 years. But life at such high altitudes remains inhospitable for most of us.

People from low altitudes who travel or move to higher elevations face multiple risks: with access to limited oxygen above 8,000 feet or so, symptoms often include headaches, low appetite and trouble sleeping. Severe cases of mountain sickness can cause swelling in the brain, a condition called High Altitude Cerebral Edema, or fluid in the lungs, called High Altitude Pulmonary Edema. Both conditions can quickly become deadly.

So how do the Sherpas do it? Over thousands of years, the bodies of high-altitude dwellers have developed ways to make the most of oxygen, says Andrew Murray, a physiologist at the University of Cambridge in the United Kingdom and one of the study's authors.

When most of us climb, a hormone in our bodies called erythropoietin (EPO) triggers the production of more red blood cells, which can then carry more oxygen to our muscles. But the extra cells also thicken our blood, which puts extra stress on the heart to pump it and can cause symptoms of altitude sickness. Sherpas increase their red blood cell count at altitude, too, but not nearly as much as people from lower down do.

It was in the muscles of the Sherpas, the study found, that the cells' mitochondria (the energy-producing parts) converted more oxygen into energy.

"The Sherpas' mitochondria were less leaky and therefore more efficient than the Westerners' mitochondria," Murray says. "They were better at using oxygen." The Sherpas were also able to produce more energy without any oxygen at all, a process called anaerobic metabolism.

### SubQuestion No : 21

Q.21 The passage is about all of the following EXCEPT:

- Ans
- A. how Sherpas are able to live normally at a height of 14,700 ft
  - B. how we can make our bodies like that of Sherpas
  - C. what problems may the low altitude people suffer at high altitudes
  - D. how Sherpas are able to climb speedily without getting tired

Question ID : 630680178252

Status : Not Answered

Chosen Option : --

### Comprehension:

Read the given passage and answer the questions that follow.

Sherpas are extraordinary human beings. In the high peaks of the Himalayas, members of the Nepalese ethnic group are famous for their speed-climbing records, ascents of routes that no one has ascended before, expert guiding and other skills.

They may be better at harnessing oxygen than the rest of us, suggests a new study. The Sherpas and other ethnic groups have lived on the high plateau of the Himalayas at an average altitude of more than 14,700 feet going back at least 6,000 years. But life at such high altitudes remains inhospitable for most of us.

People from low altitudes who travel or move to higher elevations face multiple risks: with access to limited oxygen above 8,000 feet or so, symptoms often include headaches, low appetite and trouble sleeping. Severe cases of mountain sickness can cause swelling in the brain, a condition called High Altitude Cerebral Edema, or fluid in the lungs, called High Altitude Pulmonary Edema. Both conditions can quickly become deadly.

So how do the Sherpas do it? Over thousands of years, the bodies of high-altitude dwellers have developed ways to make the most of oxygen, says Andrew Murray, a physiologist at the University of Cambridge in the United Kingdom and one of the study's authors.

When most of us climb, a hormone in our bodies called erythropoietin (EPO) triggers the production of more red blood cells, which can then carry more oxygen to our muscles. But the extra cells also thicken our blood, which puts extra stress on the heart to pump it and can cause symptoms of altitude sickness. Sherpas increase their red blood cell count at altitude, too, but not nearly as much as people from lower down do.

It was in the muscles of the Sherpas, the study found, that the cells' mitochondria (the energy-producing parts) converted more oxygen into energy.

"The Sherpas' mitochondria were less leaky and therefore more efficient than the Westerners' mitochondria," Murray says. "They were better at using oxygen." The Sherpas were also able to produce more energy without any oxygen at all, a process called anaerobic metabolism.

### SubQuestion No : 22

**Q.22** Select the option that contains that correct sequence of events in the body that can cause high altitude sickness.

- a. Red blood cells carry more oxygen to our muscles but the extra cells thicken our blood.
- b. Erythropoietin hormone in the body activates the production of more red blood cells.
- c. Our heart gets stressed in pumping the thickened blood.

- Ans
- A. cba
  - B. bca
  - C. bac
  - D. abc

INDIA

Question ID : 630680178254

Status : Not Answered

Chosen Option : --

**Comprehension:**

Read the given passage and answer the questions that follow.

Sherpas are extraordinary human beings. In the high peaks of the Himalayas, members of the Nepalese ethnic group are famous for their speed-climbing records, ascents of routes that no one has ascended before, expert guiding and other skills.

They may be better at harnessing oxygen than the rest of us, suggests a new study. The Sherpas and other ethnic groups have lived on the high plateau of the Himalayas at an average altitude of more than 14,700 feet going back at least 6,000 years. But life at such high altitudes remains inhospitable for most of us.

People from low altitudes who travel or move to higher elevations face multiple risks: with access to limited oxygen above 8,000 feet or so, symptoms often include headaches, low appetite and trouble sleeping. Severe cases of mountain sickness can cause swelling in the brain, a condition called High Altitude Cerebral Edema, or fluid in the lungs, called High Altitude Pulmonary Edema. Both conditions can quickly become deadly.

So how do the Sherpas do it? Over thousands of years, the bodies of high-altitude dwellers have developed ways to make the most of oxygen, says Andrew Murray, a physiologist at the University of Cambridge in the United Kingdom and one of the study's authors.

When most of us climb, a hormone in our bodies called erythropoietin (EPO) triggers the production of more red blood cells, which can then carry more oxygen to our muscles. But the extra cells also thicken our blood, which puts extra stress on the heart to pump it and can cause symptoms of altitude sickness. Sherpas increase their red blood cell count at altitude, too, but not nearly as much as people from lower down do.

It was in the muscles of the Sherpas, the study found, that the cells' mitochondria (the energy-producing parts) converted more oxygen into energy.

"The Sherpas' mitochondria were less leaky and therefore more efficient than the Westerners' mitochondria," Murray says. "They were better at using oxygen." The Sherpas were also able to produce more energy without any oxygen at all, a process called anaerobic metabolism.

**SubQuestion No : 23**

**Q.23 Identify whether the given statements are true or false.**

**A. Sherpas are able to produce more energy without any oxygen at all.**

**B. In the muscles of Sherpas the cells' mitochondria converts more oxygen into energy than it does in the muscles of low altitude people.**

**Ans**

A. Both A and B are true and B is the correct reason for A.

B. Both A and B are true but B is not the correct reason for A.

C. A is true and B is false.

D. A is false and B is true.

INDIA

Question ID : 630680178255

Status : Not Answered

Chosen Option : --



### Comprehension:

Read the given passage and answer the questions that follow.

Sherpas are extraordinary human beings. In the high peaks of the Himalayas, members of the Nepalese ethnic group are famous for their speed-climbing records, ascents of routes that no one has ascended before, expert guiding and other skills.

They may be better at harnessing oxygen than the rest of us, suggests a new study. The Sherpas and other ethnic groups have lived on the high plateau of the Himalayas at an average altitude of more than 14,700 feet going back at least 6,000 years. But life at such high altitudes remains inhospitable for most of us.

People from low altitudes who travel or move to higher elevations face multiple risks: with access to limited oxygen above 8,000 feet or so, symptoms often include headaches, low appetite and trouble sleeping. Severe cases of mountain sickness can cause swelling in the brain, a condition called High Altitude Cerebral Edema, or fluid in the lungs, called High Altitude Pulmonary Edema. Both conditions can quickly become deadly.

So how do the Sherpas do it? Over thousands of years, the bodies of high-altitude dwellers have developed ways to make the most of oxygen, says Andrew Murray, a physiologist at the University of Cambridge in the United Kingdom and one of the study's authors.

When most of us climb, a hormone in our bodies called erythropoietin (EPO) triggers the production of more red blood cells, which can then carry more oxygen to our muscles. But the extra cells also thicken our blood, which puts extra stress on the heart to pump it and can cause symptoms of altitude sickness. Sherpas increase their red blood cell count at altitude, too, but not nearly as much as people from lower down do.

It was in the muscles of the Sherpas, the study found, that the cells' mitochondria (the energy-producing parts) converted more oxygen into energy.

"The Sherpas' mitochondria were less leaky and therefore more efficient than the Westerners' mitochondria," Murray says. "They were better at using oxygen." The Sherpas were also able to produce more energy without any oxygen at all, a process called anaerobic metabolism.

### SubQuestion No : 24

Q.24 "They may be better at harnessing oxygen." Here the word 'harnessing' means all the following EXCEPT:

- Ans
- A. exploiting
  - B. mobilising
  - C. liberating
  - D. utilising



INDIA

Question ID : 630680178256

Status : Not Answered

Chosen Option : --

### Comprehension:

Read the given passage and answer the questions that follow.

Sherpas are extraordinary human beings. In the high peaks of the Himalayas, members of the Nepalese ethnic group are famous for their speed-climbing records, ascents of routes that no one has ascended before, expert guiding and other skills.

They may be better at harnessing oxygen than the rest of us, suggests a new study. The Sherpas and other ethnic groups have lived on the high plateau of the Himalayas at an average altitude of more than 14,700 feet going back at least 6,000 years. But life at such high altitudes remains inhospitable for most of us.

People from low altitudes who travel or move to higher elevations face multiple risks: with access to limited oxygen above 8,000 feet or so, symptoms often include headaches, low appetite and trouble sleeping. Severe cases of mountain sickness can cause swelling in the brain, a condition called High Altitude Cerebral Edema, or fluid in the lungs, called High Altitude Pulmonary Edema. Both conditions can quickly become deadly.

So how do the Sherpas do it? Over thousands of years, the bodies of high-altitude dwellers have developed ways to make the most of oxygen, says Andrew Murray, a physiologist at the University of Cambridge in the United Kingdom and one of the study's authors.

When most of us climb, a hormone in our bodies called erythropoietin (EPO) triggers the production of more red blood cells, which can then carry more oxygen to our muscles. But the extra cells also thicken our blood, which puts extra stress on the heart to pump it and can cause symptoms of altitude sickness. Sherpas increase their red blood cell count at altitude, too, but not nearly as much as people from lower down do.

It was in the muscles of the Sherpas, the study found, that the cells' mitochondria (the energy-producing parts) converted more oxygen into energy.

"The Sherpas' mitochondria were less leaky and therefore more efficient than the Westerners' mitochondria," Murray says. "They were better at using oxygen." The Sherpas were also able to produce more energy without any oxygen at all, a process called anaerobic metabolism.

### SubQuestion No : 25

Q.25 Which of the following problems can prove to be fatal for low altitude people when they climb to higher altitudes?

- Ans
- A. Headaches
  - B. Trouble in sleeping
  - C. Low appetite
  - D. Swelling in brain

Question ID : 630680178253

Status : Not Answered

Chosen Option : --

### Section : General Aptitude

Q.1 जनवरी 2023 में, मणिपुर के मार्जिंग पोलो कॉम्प्लेक्स (Marjing Polo Complex) में पोलो खिलाड़ी मार्जिंग की 120-फीट ऊंची प्रतिमा का उद्घाटन किसने किया?

- Ans
- A. एन. बीरेन सिंह
  - B. ला. गणेशन अय्यर
  - C. अमित शाह
  - D. राजनाथ सिंह

Question ID : 630680178261

Status : Answered

Chosen Option : A

Q.2 जनवरी 2023 में, केंद्रीय परिवहन मंत्री, नितिन गडकरी ने \_\_\_\_\_ में YB केंद्र में भारत की पहली इलेक्ट्रिक डबल-डेकर बस (electric double-decker bus) लॉन्च की।

- Ans  A. मुंबई  
 B. दिल्ली  
 C. पुणे  
 D. हैदराबाद

Question ID : 630680178278  
Status : Answered  
Chosen Option : B

Q.3 जनवरी 2023 में, निम्नलिखित में से किस राज्य ने 'ग्लोबल सिटी अभियान (Global City Campaign)' लॉन्च किया?

- Ans  A. उत्तर प्रदेश  
 B. राजस्थान  
 C. गुजरात  
 D. बिहार

Question ID : 630680178259  
Status : Answered  
Chosen Option : C

Q.4 अज्ञात तत्व (undiscovered element) Z=120, आवर्त सारणी के किस समूह में रखा जाएगा?

- Ans  A. 2  
 B. 4  
 C. 3  
 D. 1



INDIA

Question ID : 630680178279  
Status : Answered  
Chosen Option : B

Q.5 निम्नलिखित में से कौन-सा विकल्प, शोषण के विरुद्ध अधिकार (Right against Exploitation) के अंतर्गत आता है?

- Ans  A. धार्मिक मामलों के प्रबंध की स्वतंत्रता  
 B. उपाधियों का विलोपन  
 C. मानव का दुर्व्यापार और बलात्क्रम पर प्रतिबंध  
 D. कुछ शैक्षणिक संस्थानों में धार्मिक शिक्षा या पूजा में भाग लेने की स्वतंत्रता

Question ID : 630680178281  
Status : Answered  
Chosen Option : C

Q.6 जनवरी 2023 में, निम्नलिखित में से किस देश ने सूडान में महिला शांति सैनिकों (women peacekeepers) की सबसे बड़ी टुकड़ी की तैनाती की घोषणा की?

- Ans  A. भारत  
 B. ऑस्ट्रेलिया  
 C. अमेरिका  
 D. जापान

Question ID : 630680178277  
Status : Answered  
Chosen Option : C

Q.7 भारतीय राष्ट्रीय कांग्रेस की स्थापना किस वर्ष हुई थी, जब देश भर के प्रतिनिधि बॉम्बे में मिले थे?

- Ans  A. 1884  
 B. 1886  
 C. 1885  
 D. 1887

Question ID : 630680178265  
Status : Answered  
Chosen Option : C

Q.8 हर्षवर्धन (606 – 647 ई.) की अवधि के दौरान, निम्नलिखित में से कौन-सा बौद्ध स्थल, एक महत्वपूर्ण महायान बौद्ध धर्म केंद्र (Mahayana Buddhism centre) के रूप में कार्य करता था?

- Ans  A. कुशीनगर  
 B. सारनाथ  
 C. नालंदा  
 D. लुंबिनी

INDIA

Question ID : 630680178267  
Status : Answered  
Chosen Option : C

Q.9 अखिल भारतीय फुटबॉल महासंघ (All India Football Federation) के अध्यक्ष बनने वाले पहले पूर्व फुटबॉल खिलाड़ी कौन थे?

- Ans  A. कल्याण चौबे  
 B. बाईचुंग भूटिया  
 C. शब्बीर अली  
 D. सुनील छेत्री

Question ID : 630680178260  
Status : Answered  
Chosen Option : C

Q.10 दिसंबर 2022 में, किस राज्य ने भारत में पहली बार 'द नीलगिरी तहर (The Nilgiri Tahr)' परियोजना की शुरुआत की?

- Ans  A. तमिलनाडु  
 B. केरल  
 C. कर्नाटक  
 D. महाराष्ट्र

Question ID : 630680178275  
Status : Answered  
Chosen Option : B

Q.11 जनवरी 2023 में, मैसूर और हम्पी शहरों को 'स्वदेश दर्शन 2.0 योजना (Swadesh Darshan 2.0 scheme)' के तहत सूचीबद्ध किया गया था। ये स्थल किस राज्य में स्थित हैं?

- Ans  A. केरल  
 B. कर्नाटक  
 C. तमिलनाडु  
 D. ओडिशा

Question ID : 630680178257  
Status : Answered  
Chosen Option : B

Q.12 निम्नलिखित में से किस शासक ने 1351 और 1388 के बीच दिल्ली सल्तनत पर शासन किया था?

- Ans  A. अलाउद्दीन खिलजी  
 B. गयासुद्दीन तुगलक  
 C. मुहम्मद तुगलक  
 D. फिरोज शाह तुगलक

INDIA

Question ID : 630680178263  
Status : Answered  
Chosen Option : B

Q.13 आयनी क्रिस्टल (ionic crystals) में धनायन और ऋणायन के बीच की दूरी को मापकर निम्नलिखित में से किस त्रिज्या का अनुमान लगाया जा सकता है?

- Ans  A. धात्विक (Metallic)  
 B. सहसंयोजक (Covalent)  
 C. आयनी (Ionic)  
 D. वानडर वाल (Vander Wal)

Question ID : 630680178280  
Status : Answered  
Chosen Option : B

Q.14 निम्नलिखित में से किस वर्ष में असहयोग आंदोलन (Non-Cooperation Movement) को गति मिली?

- Ans  A. 1921-1922  
 B. 1920-1921  
 C. 1923-1924  
 D. 1922-1923

Question ID : 630680178266  
Status : Answered  
Chosen Option : D

Q.15 फरवरी 2023 में, वित्तीय वर्ष 2023-2024 के लिए केंद्रीय बजट किसने पेश किया?

- Ans  A. निर्मला सीतारमण  
 B. अमित शाह  
 C. राजनाथ सिंह  
 D. नरेंद्र मोदी

Question ID : 630680178272  
Status : Answered  
Chosen Option : A

Q.16 दिसंबर 2022 में, निम्नलिखित में से किस देश ने ई-स्पोर्ट्स (e-sports) को बहु-खेल आयोजनों (multi-sports events) के एक भाग के रूप में मान्यता दी है?

- Ans  A. अमेरिका  
 B. जापान  
 C. दक्षिण कोरिया  
 D. भारत

Question ID : 630680178262  
Status : Answered  
Chosen Option : B

Q.17 दिसंबर 2022 में, देश की किस महारत्न कंपनी ने सघन टीबी उन्मूलन परियोजना (intensive TB eradication project) की शुरूआत करने के लिए पहली बार उत्तर प्रदेश और छत्तीसगढ़ के साथ करार किया?

- Ans  A. तेल और प्राकृतिक गैस निगम (Oil and Natural Gas Corporation)  
 B. हिंदुस्तान पेट्रोलियम कॉर्पोरेशन लिमिटेड (Hindustan Petroleum Corporation Limited)  
 C. इंडियन ऑयल (Indian Oil)  
 D. भारत पेट्रोलियम कॉर्पोरेशन लिमिटेड (Bharat Petroleum Corporation Limited)

Question ID : 630680178274  
Status : Answered  
Chosen Option : B

Q.18 जनवरी 2023 में, पश्चिम बंगाल ने 'दीदीर सुरक्षा कवच (Didir Suraksha Kavach)' अभियान कितने दिनों के लिए शुरू किया?

- Ans  A. 70  
 B. 40  
 C. 60  
 D. 50

Question ID : 630680178258  
Status : Answered  
Chosen Option : C

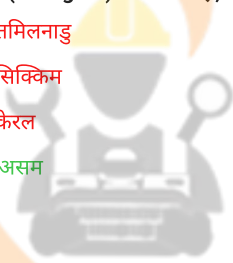
Q.19 आलुयट्टू (Aaluyattu) निम्नलिखित में से किस राज्य का लोक नृत्य है?

- Ans  A. असम  
 B. म्यांमार  
 C. नगालैंड  
 D. अरुणाचल प्रदेश

Question ID : 630680178268  
Status : Answered  
Chosen Option : A

Q.20 'बॉन-गीत' (Bon-geet) लोक गीत है, जो \_\_\_\_\_ राज्य से संबंधित है।

- Ans  A. तमिलनाडु  
 B. सिक्किम  
 C. केरल  
 D. असम



INDIA

Question ID : 630680178269  
Status : Answered  
Chosen Option : B

Q.21 फगुआ, उदासी और पावस, निम्नलिखित में से किस राज्य का लोक संगीत हैं?

- Ans  A. हरियाणा  
 B. झारखंड  
 C. तमिलनाडु  
 D. आंध्र प्रदेश

Question ID : 630680178271  
Status : Answered  
Chosen Option : A

Q.22 निम्नलिखित में से कौन-सा राज्य, तुरी (turi), बंगल (bungal) और पावा (pava), जैसे अपने स्वयं के वाद्य यंत्रों के उत्पादन के लिए भी जाना जाता है, जिनका उपयोग लोकगीतों में वाद्य के रूप में किया जाता है?

- Ans  A. गुजरात  
 B. असम  
 C. राजस्थान  
 D. केरल

Question ID : 630680178270  
Status : Answered  
Chosen Option : B

Q.23 12वीं शताब्दी के अंतिम दशक में, निम्नलिखित में से किस मस्जिद का निर्माण हुआ, जो दिल्ली सल्तनत द्वारा निर्मित पहले शहर की सामूहिक मस्जिद थी?

- Ans  A. कुव्वत उल इस्लाम मस्जिद  
 B. बेगमपुरी मस्जिद  
 C. जमाली-कमाली की मस्जिद  
 D. मोठ की मस्जिद

Question ID : 630680178264  
Status : Answered  
Chosen Option : C

Q.24 मई 2022 में, निम्नलिखित में से किसके द्वारा ब्लैक राइनो (Black Rhino) के संरक्षण के लिए 'वन्यजीव संरक्षण बॉन्ड' (Wildlife Conservation Bond) जारी किया गया था?

- Ans  A. अंतर्राष्ट्रीय मुद्रा कोष (International Monetary Fund)  
 B. विश्व व्यापार संगठन (World Trade Organisation)  
 C. विश्व बैंक (World Bank)  
 D. अंतर्राष्ट्रीय प्रकृति संरक्षण संघ (International Union for Conservation of Nature)

Question ID : 630680178276  
Status : Answered  
Chosen Option : C

Q.25 वाणिज्य मंत्रालय के आंकड़ों के अनुसार, भारत की WPI-आधारित मुद्रास्फीति, वार्षिक आधार पर नवंबर के 5.85% से घटकर दिसंबर 2022 में \_\_\_\_\_ हो गई।

- Ans  A. 4.95%  
 B. 5.12%  
 C. 5.55%  
 D. 4.45%

Question ID : 630680178273  
Status : Answered  
Chosen Option : C



Q.1 उस विकल्प का चयन करें, जिसमें शब्द-युग्म उसी संबंध को साझा करता है जो शब्दों के दिए गए युग्म द्वारा साझा किया गया है।

जोए (Joey) : कंगारू (Kangaroo)

- Ans
- A. पोल्ट : टर्की (Poult : Turkey)
  - B. कैट : डॉग (Cat : Dog)
  - C. कब : होर्स (Cub : Horse)
  - D. किटन : पिग (Kitten : Pig)

Question ID : 630680178294

Status : Answered

Chosen Option : A

Q.2 किसी निश्चित कूट भाषा में, 'RUBBER' को 'WZGGJW' के रूप में लिखा जाता है और 'PLACE' को 'UQFHJ' के रूप में लिखा जाता है। उसी भाषा में 'PAPER' को किस रूप में लिखा जाएगा?

- Ans
- A. VFUJW
  - B. UFFVJW
  - C. UFUJW
  - D. UFUJW

Question ID : 630680178290

Status : Answered

Chosen Option : D

Q.3 चार अक्षर-समूह दिए गए हैं, जिनमें से तीन किसी प्रकार से एक समान हैं और एक असंगत है। असंगत का चयन करें।

- Ans
- A. BKTCl
  - B. DMRAF
  - C. PYDMR
  - D. WFKTY

INDIA

Question ID : 630680178296

Status : Answered

Chosen Option : A

Q.4 चार अक्षर-समूह युग्म दिए गए हैं, जिनमें से तीन किसी प्रकार से एक समान हैं और एक असंगत है। असंगत का चयन करें।

- Ans
- A. BEHKN : ILORU
  - B. MPSVY : TWZCF
  - C. NTVAB : UACHI
  - D. DGJMP : KNQTW

Question ID : 630680178298

Status : Answered

Chosen Option : B

Q.5 कलाम, इल्हान, शादाब, ताबीर और एहसान एक गोलाकार व्यवस्था में बैठे हैं। वे सभी केंद्र की ओर अभिमुख हैं। 'एहसान', 'इल्हान' के ठीक बाईं ओर बैठा है। 'ताबीर', 'शादाब' और 'एहसान' के ठीक पड़ोस में बैठा है। 'कलाम', 'इल्हान' के ठीक पड़ोस में बैठा है, जो 'ताबीर' के दाईं ओर दूसरे स्थान पर बैठा है। शादाब के ठीक बाईं ओर कौन बैठा है?

- Ans
- A. इल्हान
  - B. एहसान
  - C. कलाम
  - D. ताबीर

Question ID : 630680178282

Status : Answered

Chosen Option : C

Q.6 उस संख्या की पहचान करें, जो निम्नलिखित श्रृंखला से संबंधित नहीं है।  
3, 5, 8, 17, 33, 58, 94, 143, 207

- Ans
- A. 8
  - B. 5
  - C. 58
  - D. 33

Question ID : 630680178304

Status : Answered

Chosen Option : B

Q.7 निम्नलिखित समीकरण को संतुलित करने के लिए किन दो संख्याओं को आपस में बदलना चाहिए?  
 $33 + 16 - 34 \times 4 + 18 \div 9 = 5$

- Ans
- A. 16 और 34
  - B. 16 और 9
  - C. 34 और 18
  - D. 4 और 9

Question ID : 630680178305

Status : Answered

Chosen Option : A

Q.8 ऋचा ने रविवार, 9 जनवरी, 2022 को अपना 5वां जन्मदिन मनाया। सप्ताह के किस दिन वह अपना 15वां जन्मदिन मनाएंगी?

- Ans
- A. शनिवार
  - B. रविवार
  - C. शुक्रवार
  - D. सोमवार

Question ID : 630680178289

Status : Answered

Chosen Option : C

Q.9 दिए गए कथनों और निष्कर्षों को ध्यानपूर्वक पढ़ें। यह मानते हुए कि कथनों में दी गई जानकारी सत्य है, भले ही यह सामान्य रूप से ज्ञात तथ्यों से भिन्न प्रतीत होती हो, तय करें कि दिए गए निष्कर्षों में से कौन सा/से निष्कर्ष कथनों का तार्किक रूप से अनुसरण करता/करते है/हैं।

कथन:

A. कुछ इन्वर्टर्स, कन्वर्टर्स हैं।

B. सभी कन्वर्टर्स, मशीनें हैं।

निष्कर्ष:

I. कुछ मशीनें, कन्वर्टर्स हैं।

II. कुछ मशीनें, इनवर्टर्स हैं।

Ans  A. केवल निष्कर्ष II अनुसरण करता है।

B. निष्कर्ष I और II दोनों अनुसरण करते हैं।

C. न तो निष्कर्ष I न ही निष्कर्ष II अनुसरण करता है।

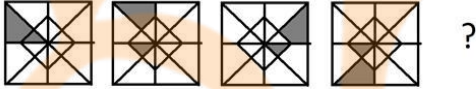
D. केवल निष्कर्ष I अनुसरण करता है।

Question ID : 630680178286

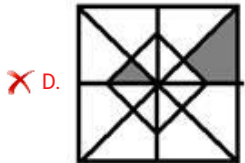
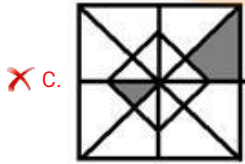
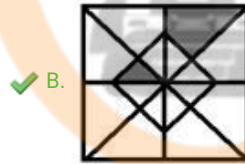
Status : Answered

Chosen Option : B

Q.10 दिए गए विकल्पों में से उस आकृति का चयन करें, जो नीचे दी गई श्रृंखला में प्रश्न चिह्न (?) को प्रतिस्थापित कर सकती है।



Ans



Question ID : 630680178299

Status : Answered

Chosen Option : B

Q.11 चार अक्षर-समूह युग्म दिए गए हैं, जिनमें से तीन किसी प्रकार से एक समान हैं और एक असंगत है। असंगत का चयन करें।

- Ans  A. ALSYH : IAVPF  
 B. NEHRT : UTKIS  
 C. NFHTR : OHKXW  
 D. NDGZT : UBJHS

Question ID : 630680178297  
Status : Not Answered  
Chosen Option : --

Q.12 यदि,

'x' का अर्थ जोड़ना है,

'÷' का अर्थ घटाना है,

'+' का अर्थ गुणा करना है, और

'-' का अर्थ विभाजन करना है,

तो निम्नलिखित समीकरण में '?' का मान क्या होगा?

$$18 + 9 \div 17 \times 21 \div 36 - 6 = ?$$

- Ans  A. 0  
 B. 194  
 C. 172  
 D. 160

Question ID : 630680178306  
Status : Answered  
Chosen Option : D

Q.13 दिए गए विकल्पों में से उस संख्या का चयन करें, जो निम्नलिखित श्रृंखला में प्रश्न चिह्न (?) को प्रतिस्थापित कर सकती है।

6, 10, 15, 23, 36, 56, 85, 125, 178, ?

- Ans  A. 246  
 B. 264  
 C. 426  
 D. 234

Question ID : 630680178303  
Status : Answered  
Chosen Option : A

Q.14 चार अक्षर-समूह दिए गए हैं, जिनमें से तीन किसी प्रकार से एक समान हैं और एक असंगत है। असंगत का चयन करें। है।

- Ans  A. RUZCH  
 B. PSXAF  
 C. XAFIN  
 D. ZEGJO

Question ID : 630680178295  
Status : Answered  
Chosen Option : D

Q.15 यदि,

$A + B$  का अर्थ है कि 'A, B की मां है',  
 $A - B$  का अर्थ है कि 'A, B की बहन है',  
 $A \times B$  का अर्थ है कि 'A, B का भाई है',  
 $A \div B$  का अर्थ है कि 'A, B की पुत्री है',  
तो निम्नलिखित समीकरण में Y का Z से क्या संबंध है?  
 $V \div Z - W + Y \times X$ ,

Ans  A. भौंजा (बहन का पुत्र)

B. भाई

C. पुत्र

D. चाचा (पिता का भाई)

Question ID : 630680178292

Status : Answered

Chosen Option : A

Q.16 आठ व्यक्ति A, B, C, D, E, F, G और H एक साथ यात्रा कर रहे हैं। C, A का पौत्र है। E, G के पुत्र की पत्नी है। B का विवाह F के साथ हुआ है। G दो पुत्रों और एक पुत्री की मां है। H, A की पुत्री है। D, B का छोटा भाई है। E, H के भाई की पत्नी है। F, C की मां है। G का C से क्या संबंध है?

Ans  A. दादा

B. परदादी

C. दादी

D. पिता

Question ID : 630680178293

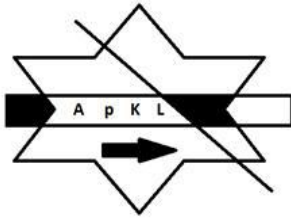
Status : Not Answered

Chosen Option : --

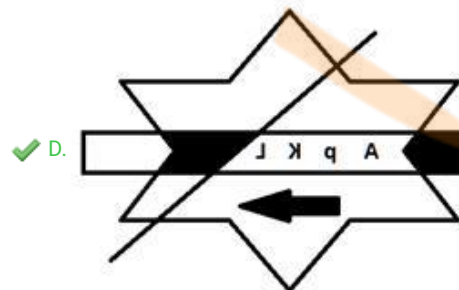
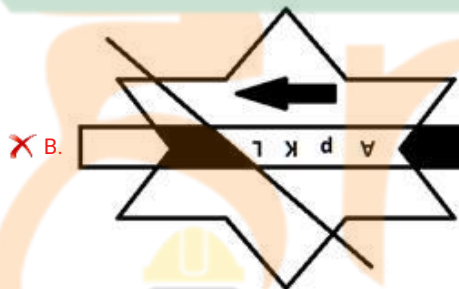


INDIA

Q.17 दर्पण को दाईं ओर रखे जाने पर, दी गई आकृति के सही दर्पण प्रतिबिंब का चयन करें।



Ans



Question ID : 630680178301

Status : Answered

Chosen Option : D

Q.18 पांच मित्र पाखी, अलीना, ममता, तरुण और पारुल एक सीधी पंक्ति में उत्तर की ओर अभिमुख होकर बैठे हैं। अलीना, ममता के ठीक दाईं ओर बैठी है। पारुल, ममता के बाईं ओर दूसरे स्थान पर बैठी है। तरुण, पाखी के बाईं ओर दूसरे स्थान पर बैठा है। पारुल, पाखी के ठीक बाईं ओर बैठी है। निम्नलिखित में से ठीक बीच में कौन बैठा/ बैठी है?

- Ans
- A. अलीना
  - B. ममता
  - C. पारुल
  - D. पाखी

Question ID : 630680178283

Status : Answered

Chosen Option : D

Q.19 अक्षरों के उस संयोजन का चयन करें, जो दी गई श्रृंखला के रिक्त स्थानों में क्रमिक रूप से रखे जाने पर श्रृंखला को पूरा करेगा।

AC \_ \_ ACCD \_ \_ CCDBACC \_ \_ CCD \_

- Ans
- A. CDBBADBAA
  - B. CDBBADBAB
  - C. CDDBADBAB
  - D. CDBBADBAC

Question ID : 630680178287

Status : Answered

Chosen Option : B

Q.20 30 विद्यार्थियों की एक कक्षा में रमन का स्थान शीर्ष से चौदहवां है। उसके मित्र राघव का स्थान नीचे से 16वां है। रमन और राघव के बीच कितने विद्यार्थियों का स्थान है?

- Ans
- A. 2
  - B. 0
  - C. 3
  - D. 1

Question ID : 630680178284

Status : Answered

Chosen Option : B

Q.21 दी गई अक्षर श्रृंखला का संदर्भ लें और नीचे दिए गए प्रश्न का उत्तर दें।  
(बाएं) a d c f t g b v f r d c s e c r h u n b g f (दाएं)  
ऐसे कितने स्वर हैं जिनके ठीक बाद और ठीक पहले एक व्यंजन है?

- Ans
- A. 3
  - B. 1
  - C. 0
  - D. 2

Question ID : 630680178288

Status : Answered

Chosen Option : D

Q.22 यदि परसों के बाद, दूसरा दिन शुक्रवार है, तो सप्ताह का कौन सा दिन, कल से पहले तीसरा दिन होगा?

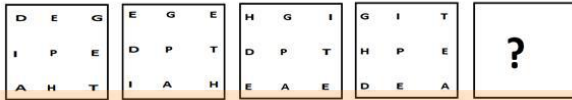
- Ans  A. शुक्रवार  
 B. बृहस्पतिवार  
 C. शनिवार  
 D. सोमवार

Question ID : 630680178285

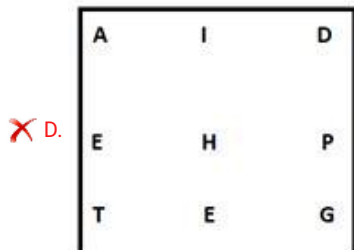
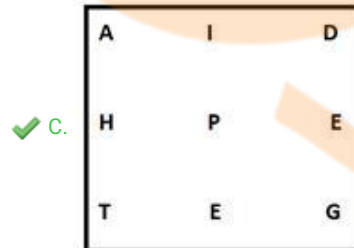
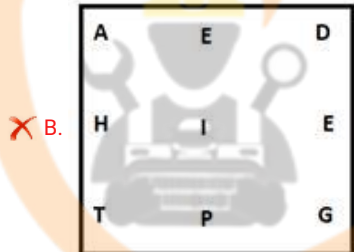
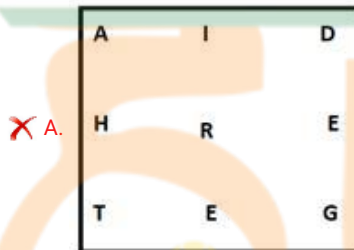
Status : Answered

Chosen Option : B

Q.23 दिए गए विकल्पों में से उस आकृति का चयन करें, जो नीचे दी गई श्रृंखला में प्रश्न चिह्न (?) को प्रतिस्थापित कर सकती है।



Ans



Question ID : 630680178300

Status : Answered

Chosen Option : C



Q.24 लिंडा ने अपने घर से निकल कर उत्तर-पूर्व दिशा की ओर चलना आरंभ किया। 500 m चलने के बाद, वह पश्चिम की ओर मुड़ी और 300 m चली। फिर वह अपने बाईं ओर मुड़ी और अपनी सहेली मिनी से उसके घर पर मिलने के लिए 500 m चली। मिनी का घर लिंडा के घर से किस दिशा में है?

- Ans
- A. पूर्व
  - B. दक्षिण
  - C. उत्तर
  - D. पश्चिम

Question ID : 630680178291

Status : Answered

Chosen Option : B

Q.25 दिए गए विकल्पों में से उस संख्या का चयन करें, जो निम्नलिखित श्रृंखला में प्रश्न चिह्न (?) को प्रतिस्थापित कर सकती है।

3, 14, 36, 69, 113, 168, ?

- Ans
- A. 230
  - B. 232
  - C. 234
  - D. 233

Question ID : 630680178302

Status : Answered

Chosen Option : C

Section : Quantitative Aptitude

Q.1 ₹13,500 की राशि 4 वर्षों में साधारण ब्याज दर पर ₹15,500 हो जाती है। ब्याज दर ज्ञात करें?

- Ans
- A.  $3\frac{19}{27}\%$
  - B.  $3\frac{4}{5}\%$
  - C.  $5\frac{7}{9}\%$
  - D.  $4\frac{7}{8}\%$

Question ID : 630680178319

Status : Answered

Chosen Option : A

Q.2 150 m और 100 m लंबी दो ट्रेनें हैं। यदि दोनों ट्रेनें विपरीत दिशाओं में चलती हैं, तो वे 25 s के बाद एक दूसरे को पार करती हैं और एक ही दिशा में यात्रा करने पर एक दूसरे को पार करने में 50 s का समय लेती हैं। दोनों ट्रेनों की चाल ज्ञात करें:

- Ans  A. 7.5 m/s और 2.5 m/s  
 B. 8.5 m/s और 2.5 m/s  
 C. 7.5 m/s और 3.5 m/s  
 D. 5.5 m/s और 3.5 m/s

Question ID : 630680178320

Status : Answered

Chosen Option : A

Q.3 एक व्यक्ति की आय ₹50,000 है और उसका व्यय ₹35,000 है। यदि उसकी आय में 20% और व्यय में 10% की वृद्धि कर दी जाए, तो बचत में कितने प्रतिशत की वृद्धि होगी?

- Ans  A.  $53\frac{2}{3}\%$   
 B.  $43\frac{1}{3}\%$   
 C.  $63\frac{1}{6}\%$   
 D.  $52\frac{1}{5}\%$

Question ID : 630680178314

Status : Answered

Chosen Option : B

Q.4 एक प्रकाशस्तंभ के दोनों ओर समुद्र में दो जहाज चल रहे हैं। जहाजों से प्रकाशस्तंभ के शीर्ष के उन्नयन कोण क्रमशः  $45^\circ$  और  $60^\circ$  प्रेक्षित हैं। यदि प्रकाशस्तंभ  $200\sqrt{3}$  m ऊंचा है, तो दोनों जहाजों के बीच की अनुमानित दूरी ज्ञात करें:

- Ans  A. 540 m  
 B. 550 m  
 C. 546 m  
 D. 560 m

Question ID : 630680178331

Status : Not Answered

Chosen Option : --

Q.5 धारा के प्रतिकूल चलने वाली एक नाव को एक निश्चित दूरी तय करने में 5 h 45 min लगते हैं, जबकि समान दूरी को धारा के अनुकूल तय करने में 5 h लगते हैं। नाव की चाल और धारा की चाल के बीच अनुपात क्या है?

- Ans  A. 5 : 4  
 B. 43 : 3  
 C. 4 : 1  
 D. 42 : 5

Question ID : 630680178321

Status : Answered

Chosen Option : B

Q.6 A, B, C  $\frac{1}{2} : \frac{1}{3} : \frac{1}{4}$  के अनुपात में साझेदारी करते हैं। 2 महीने बाद, A अपने हिस्से में 50% की वृद्धि करता है। यदि वर्ष के अंत में कुल लाभ ₹74,400 है, तो लाभ में A का हिस्सा ज्ञात करें:

- Ans
- A. ₹45,400
  - B. ₹42,500
  - C. ₹40,800
  - D. ₹37,200

Question ID : 630680178318

Status : Answered

Chosen Option : C

Q.7 तीन नल A, B और C एक टंकी को क्रमशः 24, 30 और 40 h में भर सकते हैं। यदि नल A हर समय खुला रहता है और नल B और C एकांतर क्रम में एक-एक h के लिए खुले रहते हैं, तो टंकी कितने समय में भर जाएगी?

- Ans
- A.  $14\frac{1}{9}$  h
  - B.  $20\frac{7}{9}$  h
  - C.  $15\frac{2}{5}$  h
  - D.  $13\frac{5}{7}$  h

Question ID : 630680178324

Status : Answered

Chosen Option : A

Q.8 एक छात्रावास में 70 विद्यार्थी थे। 14 नए विद्यार्थियों के प्रवेश के बाद, मेस का खर्च प्रतिदिन ₹28 बढ़ जाता है जबकि प्रति व्यक्ति औसत खर्च ₹1 कम हो जाता है। मेस का मूल व्यय क्या था?

- Ans
- A. ₹652
  - B. ₹560
  - C. ₹565
  - D. ₹550

Question ID : 630680178311

Status : Not Answered

Chosen Option : --

Q.9 20, 40,  $\alpha$ , 100 का औसत 55 है, तो  $2\alpha$  का मान ज्ञात कीजिए।

- Ans
- A. 105
  - B. 120
  - C. 60
  - D. 110

Question ID : 630680178309

Status : Answered

Chosen Option : B

Q.10 A और B की वर्तमान आयु का अनुपात 3 : 8 वर्ष है। 6 वर्ष बाद, उनकी आयु का अनुपात क्रमशः 9 : 19 वर्ष हो जाएगा। A की वर्तमान आयु (महीनों में) ज्ञात करें।

- Ans
- A. 27
  - B. 384
  - C. 12
  - D. 144

Question ID : 630680178328  
Status : Answered  
Chosen Option : D

Q.11 A और B एक कार्य को क्रमशः x दिनों में और 60 दिनों में कर सकते हैं। दोनों एक साथ काम करना शुरू करते हैं और पूरे कार्य को 20 दिनों में पूरा कर देते हैं। x का मान ज्ञात करें।

- Ans
- A. 30
  - B. 35
  - C. 25
  - D. 15

Question ID : 630680178322  
Status : Answered  
Chosen Option : A

Q.12 यदि  $\gamma$  सबसे बड़ी संख्या है जो 43, 63, 87 को इस प्रकार विभाजित करती है कि प्रत्येक मामले में समान शेष बचता है, तो  $\frac{\gamma+2}{\gamma-2}$  का मान ज्ञात करें।

- Ans
- A. 9
  - B. 5
  - C. 4
  - D. 3

INDIA

Question ID : 630680178307  
Status : Answered  
Chosen Option : D

Q.13 एक बस पहले घंटे में x km, दूसरे घंटे में 100 km की दूरी तय करती है और बस की औसत चाल 75 km/h है। x का मान ज्ञात करें।

- Ans
- A. 50 km
  - B. 65 km
  - C. 70 km
  - D. 82 km

Question ID : 630680178310  
Status : Not Answered  
Chosen Option : --

Q.14 A, B को ₹500 की कीमत वाली एक वस्तु 30% के लाभ पर बेचता है। B फिर उसे C को बेचता है और A को किए गए भुगतान पर 10% का लाभ कमाता है। C, B को कितना भुगतान करता है?

- Ans
- A. ₹720
  - B. ₹715
  - C. ₹820
  - D. ₹645

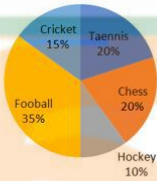
Question ID : 630680178315

Status : Answered

Chosen Option : B

Q.15 पाई चार्ट का ध्यानपूर्वक अध्ययन करें। यदि विद्यार्थियों की कुल संख्या 4,25,000 है, तो उन विद्यार्थियों की संख्या ज्ञात करें जो क्रिकेट क्लब के सदस्य हैं।

Number of Students in Varioud Sports Club



Number of Students in Various Sports Club = विभिन्न स्पोर्ट्स क्लब में विद्यार्थियों की संख्या

Cricket 15% = क्रिकेट, Tennis 20% = टेनिस, Fooball 35% = फुटबॉल, Chess 20% = शतरंज, Hockey 10% = हॉकी

- Ans
- A. 63,750
  - B. 1,48,750
  - C. 1,06,250
  - D. 42,500

Question ID : 630680178325

Status : Answered

Chosen Option : A

Q.16 यदि  $p : q = 2 : 3$ ,  $q : r = 6 : 7$  है, तो  $p : q : r = ?$

- Ans
- A. 6 : 4 : 7
  - B. 3 : 4 : 7
  - C. 7 : 6 : 4
  - D. 4 : 6 : 7

Question ID : 630680178317

Status : Answered

Chosen Option : D

Q.17 A और B अकेले एक कार्य को क्रमशः 6 दिनों में और 20 दिनों में पूरा कर सकते हैं। यदि वे दोनों B से शुरू करते हुए एकांतर दिनों में काम करते हैं तो कार्य कितने दिनों में पूरा होगा?

Ans

A.  $9\frac{1}{2}$

B.  $9\frac{1}{6}$

C.  $8\frac{1}{3}$

D.  $10\frac{1}{2}$

Question ID : 630680178323

Status : Answered

Chosen Option : A

Q.18 एक शंकु की ऊँचाई 90 cm है। एक छोटे शंकु को आधार के समानांतर समतल द्वारा शीर्ष पर काटा जाता है। यदि इसका आयतन दिए गए शंकु के आयतन का  $\frac{1}{729}$  है, तो आधार से ऊपर कितनी ऊँचाई पर खंड बनाया गया है?

Ans

A. 80 cm

B. 75 cm

C. 86 cm

D. 65 cm

Question ID : 630680178330

Status : Not Answered

Chosen Option : --

Q.19 10%, 20% और 30% की एकल समतुल्य छूट क्या है?

Ans

A. 50.4%

B. 48.4%

C. 49.6%

D. 47%

Question ID : 630680178316

Status : Answered

Chosen Option : C

Q.20 एक बाइक की कीमत ₹1,50,000 है। कुछ समय बाद मूल्य में 30% की वृद्धि की जाती है। 30% वृद्धि के बाद बाइक की कीमत क्या होगी?

Ans

A. ₹2,15,000

B. ₹1,87,000

C. ₹1,95,000

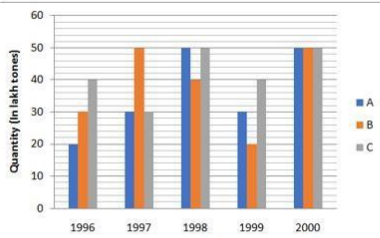
D. ₹1,98,000

Question ID : 630680178312

Status : Answered

Chosen Option : C

Q.21 नीचे दिया गया बार ग्राफ वर्षों में तीन अलग-अलग कंपनियों A, B और C द्वारा कागज के उत्पादन (लाख टन में) पर डेटा दिखाता है।



Quantity (In Lakh Tonnes) = मात्रा (लाख टन में)

निम्नलिखित में से किस वर्ष के लिए, कंपनी A के लिए पिछले वर्ष की तुलना में उत्पादन में प्रतिशत वृद्धि अधिकतम है?

- Ans
- A. 1997 और 1998
  - B. 1997 और 2000
  - C. 1998 और 2000
  - D. 1997 और 1999

Question ID : 630680178326

Status : Answered

Chosen Option : A

Q.22 एक खोखले लोहे का पाइप 35 cm लंबा है और इसका बाहरी व्यास 14 cm है और पाइप की मोटाई 1 cm है, और पाइप को बनाने में लगे लोहे का वजन  $10 \text{ g/cm}^3$  है, तो पाइप का वजन kg में ज्ञात करें:  $(\pi = \frac{22}{7})$

- Ans
- A. 15.2
  - B. 12.6
  - C. 14.3
  - D. 13.4

INDIA

Question ID : 630680178329

Status : Not Answered

Chosen Option : --

Q.23 दो उम्मीदवारों के बीच एक चुनाव में, एक को कुल वैध मतों के 60% मत मिले, 10% मत अवैध थे। यदि मतों की कुल संख्या 8,000 थी, तो दूसरे उम्मीदवार को प्राप्त वैध मतों की संख्या ज्ञात करें:

- Ans
- A. 2,880
  - B. 2,890
  - C. 2,875
  - D. 2,995

Question ID : 630680178313

Status : Answered

Chosen Option : A

Q.24  $\sqrt{1.21} + \sqrt{0.0009} + \sqrt[3]{0.125} - \sqrt{0.04} = ?$

- Ans  A. 1.56  
 B. 1.43  
 C. 1.85  
 D. 1.52

Question ID : 630680178308

Status : Answered

Chosen Option : B

Q.25 यदि  $a^3 - b^3 = 448$  और  $a - b = 4$  है, तो  $a^2 + b^2$  का मान ज्ञात करें ?

- Ans  A. 78  
 B. 74  
 C. 80  
 D. 65

Question ID : 630680178327

Status : Answered

Chosen Option : C



INDIA